

▪ **Omple els espais buits a partir de l'observació de la pàgina 1(Els banys d'Ilturo)**

*Per trobar-se “com a casa”, els romans establerts a la ciutat \_\_\_\_\_ necessitaven tot una sèrie de comoditats que els \_\_\_\_\_ no els podien oferir, la principal de les quals eren els banys. (\_\_\_\_\_). Tot i que els personatges més importants disposaven de banys dins les seves cases (\_\_\_\_\_), la majoria anava als \_\_\_\_\_. Allí, un cop acabada la jornada de feina, els romans hi passaven una estona de lleure fins l'hora de sopar, de manera que a més de la seva funció higiènica eren també un lloc de trobada i de relació social*

▪ **Relaciona mitjançant fletxes aquests conceptes, que trobaràs al llarg de la presentació de la web, amb les definicions correctes que hi ha al costat.**

<i>Domus</i>	Sala de banys calents
<i>Balnea</i>	Sala de calor seca
Termes	Banyera
Hispania	Encarregat que vigilava les pertinences
<i>Apodyterium</i>	Botigues
<i>Tepidarium</i>	Semicilindre de bronze per refredar
<i>Laconicum</i>	Banys públics
<i>Caldarium</i>	Sala tèbia
<i>Praefurnium</i>	Península Ibèrica
<i>Tavernes</i>	Vestidor
<i>Capsarius</i>	Pica central
<i>Labrum</i>	Forns per escalfar l'aigua
<i>Alveus</i>	Túnel abovedat
<i>Tubi fittili</i>	Tubs ceràmics per a les cobertes
<i>Testudo</i>	Casa urbana
Hipocaust	Banys

▪ **Quines funcions creus que tenien els banys pels romans?**

- Era una botiga
- Hi passaven una estona de lleure fins l'hora de sopar
- Era una sala de jocs i d'esbarjo
- Tenien una funció higiènica
- Era una mena de restaurant on es trobaven les famílies
- Era un lloc de trobada i de relació social

▪ **Quina mena d'edifici actual creus que realitza la mateixa funció que els banys pels romans?**

- Un hipermercat
- Un jacuzzi
- Una pizzeria
- Un lloc de trobada i de relació social
- Una sala de jocs i d'esbarjo
- Un balneari

- A partir de la informació de la web intenta relacionar els noms dels personatges amb la seva imatge correcta.

Escipió — Marcial — Sèneca — Adrià

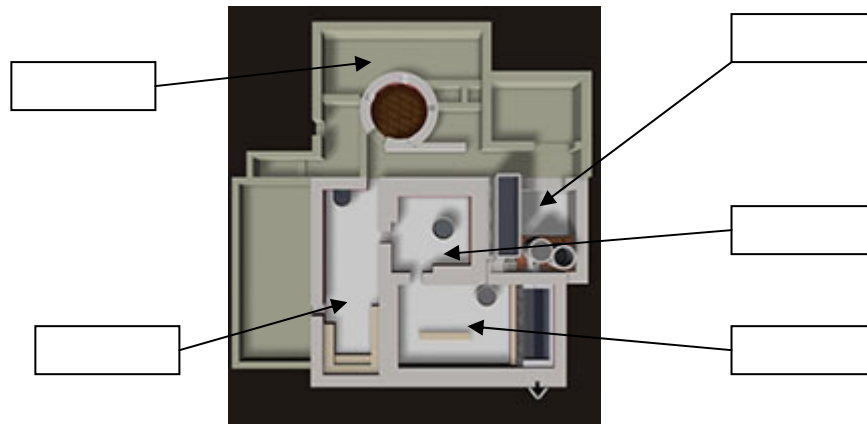


- A partir de la lectura del text de la pàgina 2 de les termes (cronologia), creus que les termes eren molt decorades amb marbres i pintures o eren senzilles i sense luxe? Raona la resposta.
- A la pàgina 3 et situa les termes de Ilturo (Cabrera de Mar), indica en aquest mapa on estava Ilturo. A quina província romana pertanyia?


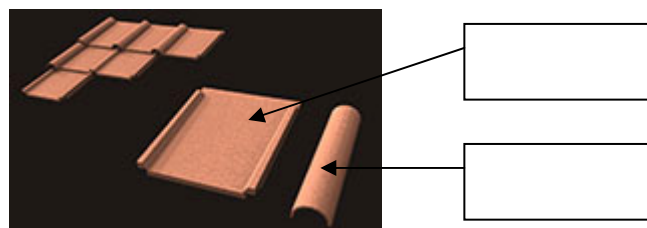


- On estaven situades les termes de Ilturo, aïllades en el camp o estaven dins de la ciutat?
- Quin era l'ambient que hi havia dins els banys públics?

- **Situa en el lloc correcte aquestes estances de les termes: Laconium, Tepidarium, Caldarium, Praefurnium, Apodyterium**



- **A la web et comenten que “el bany romà es basava en el contrast entre la calor i el fred”. Ho has provat tu? Com et sents, més relaxat després de l’experiència? Explica-ho.**
- **Descriu quines eren les feines que es desenvolupaven dins els banys? Intenta descriure de cada personatge, quin nom tenia i què feia.**
- **Indica en el lloc correcte aquests conceptes: Imbrices i tegulae.** Explica com es col·locaven cada una de les peces per fer les teulades. Nosaltres ho fem igual?



- **A partir de la informació de la web digues per a què servien aquests objectes.**

			
Estrígils	Llàntia	Braser	Llàntia

- **Indica a quina temperatura es podia arribar a cada una de les estances que tens a continuació**

Caldarium	
Laconicum	

- **Explica com s'escalfava l'aigua a les termes i com arribava l'escalfor a les diferents estances.**

- **A veure si trobes.... (indica el número de la pàgina)**

- Un gos
- L'ombra d'un ocell
- Unes sabatilles a terra
- Una gerra de vidre en un prestatge