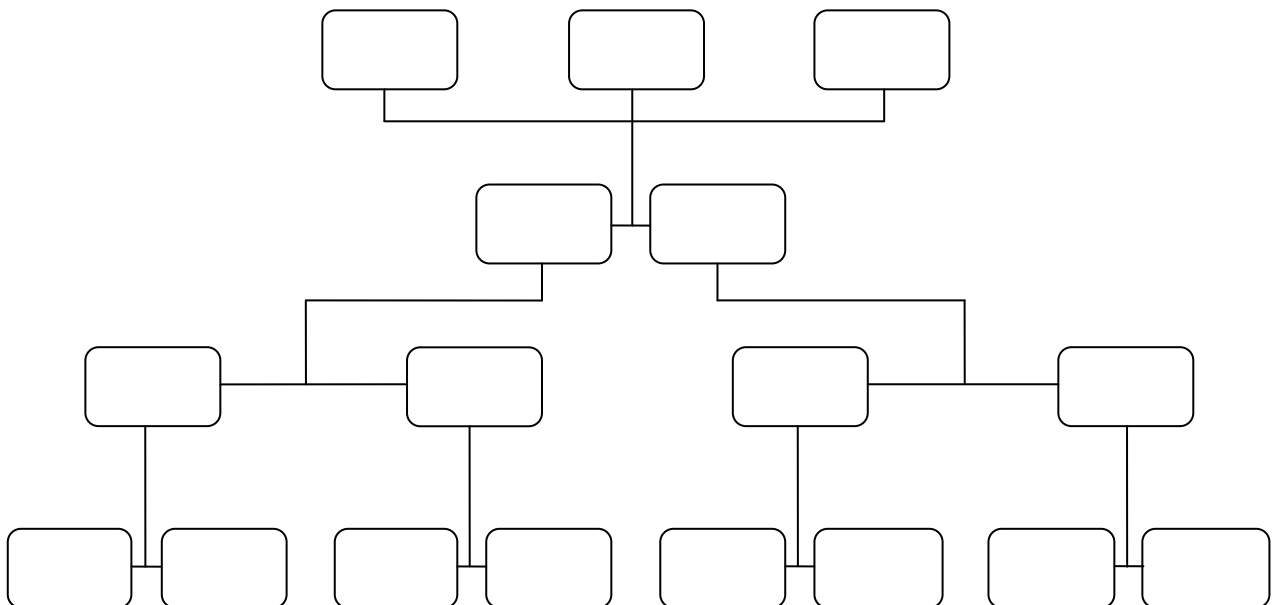


- **Protegides per la capella de Sant Joan de Cabrera es van construir les primeres masies del poble. Indica amb una creueta quines són.**

- | | | |
|--|--|---|
| <input type="checkbox"/> Can Santfeliu | <input type="checkbox"/> Can Canal | <input type="checkbox"/> Can Tria de Mata |
| <input type="checkbox"/> Can Lladó | <input type="checkbox"/> Can Bartomeu | <input type="checkbox"/> Can Sala |
| <input type="checkbox"/> Ca l'Argenter | <input type="checkbox"/> Ca N'Agell | <input type="checkbox"/> Can Rodó de l'Hortet |
| <input type="checkbox"/> Can Fontanils | <input type="checkbox"/> Can Fontanals | <input type="checkbox"/> Ca l'Avi |

- **A Catalunya era tradició que els masos anessin passant de pares a fills. Can Bartomeu anà passant de generació en generació probablement ja des del segle XII. Intenta fer un arbre genealògic de la teva família com més lluny millor. Pots anar completant el gràfic segons ho necessitis. (En el primer nivell t'hi poses tu i els teus germans, si és el cas. Al segon els teus pares, després els avis i així anant enrera. Pots posar-hi l'any de naixement si ho saps)**



- **Què tenia plantat Joan Bartomeu al segle XII en unes finques que va permutar?**

- | | |
|--|---|
| <input type="checkbox"/> Tomàquets i patates | <input type="checkbox"/> Pinya i oliveres |
| <input type="checkbox"/> Vinya i oliveres | <input type="checkbox"/> Vinya i pomeres |
| <input type="checkbox"/> Oliveres i llegums | <input type="checkbox"/> Arròs i espinacs |
| <input type="checkbox"/> Blat i oliveres | <input type="checkbox"/> Vinya i ordi |

- **Què creus que vol dir aquesta inscripció que hi ha en el marxapeu de la portalada de Can Bartomeu?**



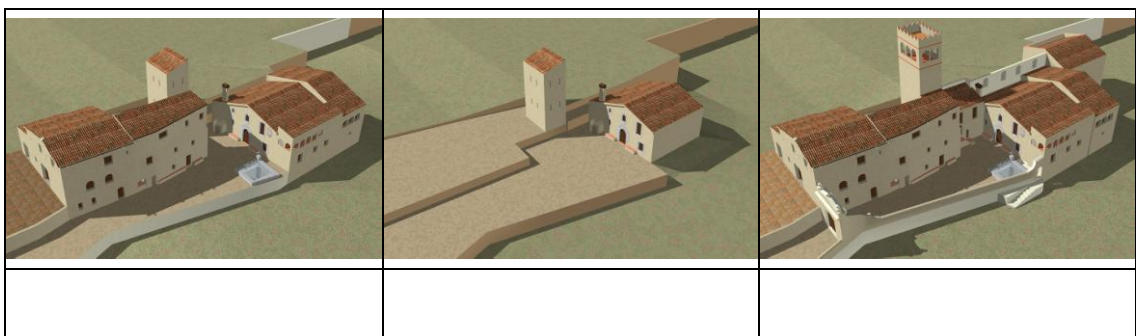
- **Relaciona els conceptes amb la seva definició correcta:**

Marxapeu	Persona maca, bella, bonica
Llinda	Persona que marxa a peu
Masia clàssica	Fusta o pedra travessera que descansa sobre els dos muntants d'una porta i descarrega la paret superior
Caminant	Part inferior de l'obertura d'una porta, especialment la d'entrada d'una casa, formada per una pedra travessera que ve a un nivell més alt que el sòl exterior
Bonica	Edifici de tres cossos amb planta baixa i pis, que apareix a partir del segle XVI

- **A finals del XVIII, la casa viu un període de prosperitat, que es reflecteix en un creixement espectacular del volum edificat amb un nou cos, el quart. Quines parts es fan noves?**

- S'allarga la xemeneia perquè es feia curta
- Ampliació de la cuina de la planta baixa
- Un pou més gran
- Nou sistema de calefacció central a la planta baixa
- Una galeria porticada al primer pis
- Un oratori al fons del primer pis
- Un celler a la part del darrera
- Un rebost i un pou de glaç
- El paller i l'era a la part del davant
- La masoveria on residiran els mossos

- **Enumera de forma correcta les diferents fases en la construcció de la masia**




- **Al segle XIX es fan noves reformes. Explica per quins motius creus que es fan aquests canvis:**

1. L'any 1830 es construeix un segon celler i també una nova masoveria.

2. L'any 1840 es reforma el barri amb portalada que tanca el recinte, i s'afegeix un mur que protegeix la masia per la banda nord.

- **Amb la plaga de fil·loxera de finals del segle XIX, Can Bartomeu pateix un bon daltabaix. Què és la fil·loxera i què fa?**



- **En què consisteix el regadiu?**





- **Perquè és més difícil el regadiu a muntanya?**

- **A la cultura mediterrània quins són els aliments bàsics tradicionals?**


- El pa, el vi i l'oli
- El pa, el vi i el moltó
- El pa, i el formatge
- Més pa que formatge

- El pa, les patates i l'hamburguesa
- Els cereals, les verdures i la carn de porc
- El pa, la cervesa i el llard
- El pa i les patates, però només bullides


- Explica cada una de les imatges en el procés d'elaboració del pa.

			
<i>Batuda del blat a l'era:</i>	<i>Pastar el pa en la pastera:</i>	<i>Preparar el forn mentre...</i>	<i>Coure:</i>

- Per a què creus que serveix aquest aparell que no trobem a Can Bartomeu?




- Per a què servia un celler? Quines parts hi trobes i per a què serveixen?



- Per a què servia una premsa? De quina altra manera es podia fer el mateix en el cup?



- **Explica a partir de la imatge què és un trull i per a què serveix?**



- **Què és una comuna?**

- **Encercla cada una de les activitats que es podien fer en una masia?**

Sembrar	Batre	Agafar el tren	Anar al cine
Tenir cura del bestiar	Regar	Pescar anxoves	Pastar el pa
Premsar el raïm	Alimentar l'aviram	Adobar els conreus	Fer l'oli
Mirar la televisió	Conrear espècies	Tallar llenya	Segar
Fer conserves d'aliments	Esquilar el ramat	Fer carbó	Llaurar
Munyir les vaques	Matar el porc		

- **Dibuixa una masia i indica les seves parts**

