

El Castell medieval de Burriac

Exercicis de Primària


- Quins noms ha tingut el castell?
- Per què creus que van construir el castell en aquest lloc?
- Creus que els ibers i els romans pensaven el mateix que els medievals i el van construir aquí?
- Situa en aquest plànol cada un d'aquests elements: Torre de l'homenatge, Pati d'armes, Capella, Cambres, Cisterna, Magatzems i Quadres i Bastió sud



- Busca en aquesta sopa de lletres sis parts d'un castell medieval

G	T	U	D	A	P	L	E	A	M
A	C	T	O	R	R	E	T	I	S
S	A	E	L	I	O	S	C	A	E
V	M	A	F	I	A	I	E	L	A
D	B	L	A	P	S	C	S	L	C
R	R	L	R	T	U	I	V	E	A
A	E	A	E	R	T	N	I	P	S
B	S	R	N	O	I	T	S	A	B
A	N	U	L	T	R	E	C	C	O
A	L	M	E	N	O	S	T	A	R



- Indica a sota d'aquestes imatges de quin tipus de construcció medieval es tracta: castell roquer, castell palau, torre de defensa, ciutat fortificada



- Numera de forma correcta les diferents fases en la construcció del castell



- Pinta en el primer dibuix l'escut dels Sant Vicenç. En l'altre pinta com seria l'escut de la teva família.



- **Explica què és un merlet i una espitllera.**

- **Per a què creus que servien aquestes finestres?**



- **Per a què servia una cisterna? I una masmorra? N'hi havia a Burriac?**

- **Saps qui era Pere Joan Ferrer? Explica'n alguna cosa.**

- **Què creus que és això?**



- **Per a què servia una forca i on estaven situades les del castell de Burriac?**

- Indica en el mapa els diferents municipis actuals que formaven la baronia del Maresme en temps de Pere Joan Ferrer.



- Realitzeu una llista de possibles personatges del castell de Burriac, us els repartiu amb els companys de la classe i les següents escenes:
 - La cerimònia d'homenatge
 - Uns joglars que canten cançons i fan malabarismes mentre esteu sopant
 - Com el castlà del castell rep els vilatans de Cabrera per pagar els impostos o demanar justícia per un robatori.

